

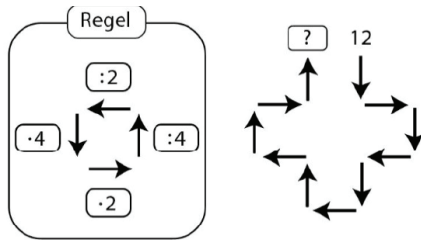


Hopp videre med

KENGURU

- en videre utforskning av oppgaver fra Kengurukonkurransen

Kaja begynner med tallet 12 og følger pilene. Hun følger regelen nedenfor.



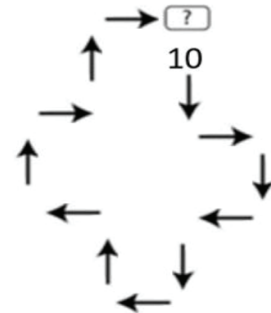
Hvilket tall må Kaja skrive i ruta med spørsmålstegnet?

- A** 3
- B** 6
- C** 12
- D** 24
- E** 48

Benjamin 2022, oppgave 10

Oppgave 1

Start med tallet 10, og følg regelen ovenfor på denne figuren:

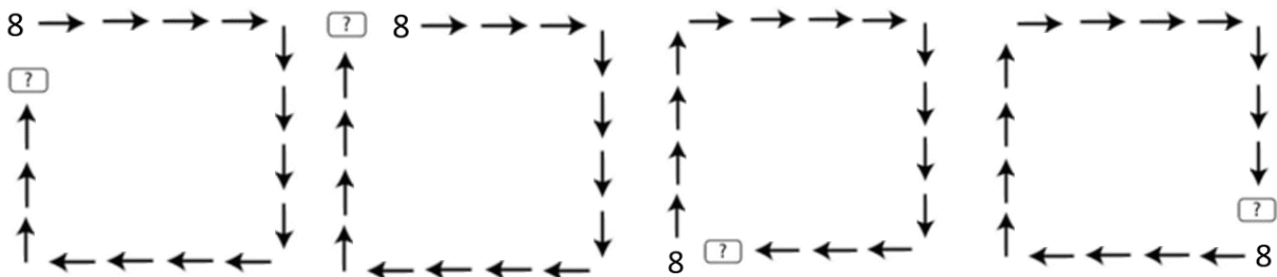


Hvilket tall skal stå i ruta med spørsmålstegnet?

Oppgave 2

Bruk samme regel på figurene nedenfor.

Finn ut hvilke tall som skal stå i rutene med spørsmålstegn:





Oppgave 3

Kaja ønsker å finne svaret på disse oppgavene uten å regne ut alle pilene i hver figur.

Skriv en forklaring til Kaja slik at hun slipper å regne ut alle regnestykkene i hver figur.

Oppgave 4

Lag egne figurer. Hver figur må inneholde alle de fire pilene. Velg starttallet og hvor spørsmålstegnet skal stå.

