



Hopp videre med

# KENGURU

- en videre utforsking av oppgaver fra Kengurukonkurransen

Et puslespill består av fire biter. Når de fire bitene er satt sammen på riktig måte, er det bilde av et regnestykke.



Hva blir svaret på dette regnestykket?

A 6

B 15

C 18

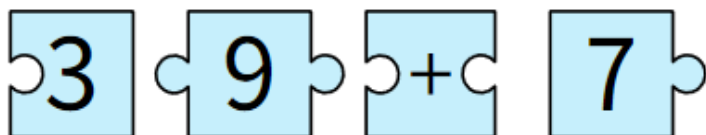
D 23

E 32

Ecolier 2021, oppgave 3

Oppgave 1)

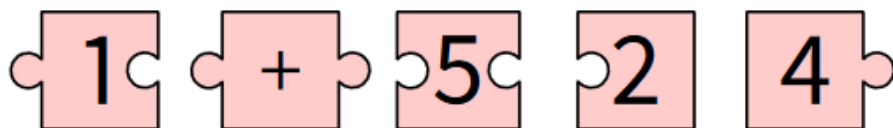
Et puslespill består av fire biter. Når de fire bitene er satt sammen på riktig måte, er det bilde av et regnestykke.



Hva blir svaret på dette regnestykket?

Oppgave 2)

Et puslespill består av 5 biter. Når de fem bitene er satt sammen på riktig måte, er det bilde av et regnestykke.



Hva blir svaret på dette regnestykket?

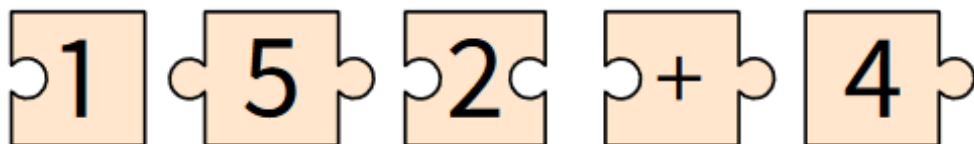




Oppgave 3)

På hvor mange måter kan du legge alle disse brikkene slik at de danner regnestykker?

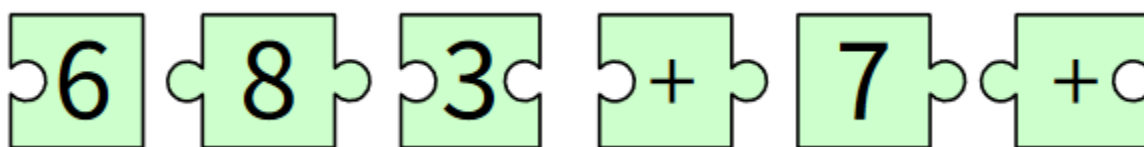
Det er lov til å snu  på hodet. Finn også svaret på regnestykkene du lager.



Oppgave 4)

De seks brikkene skal settes sammen på tre ulike måter slik at

summene blir 51, 87 og 96. Her er det også lov til å snu .



Oppgave 5)

Hvilke av disse summene kan du få? 48, 84, 138, 282, 633, 723, 1000

Her er det også lov til å snu .

